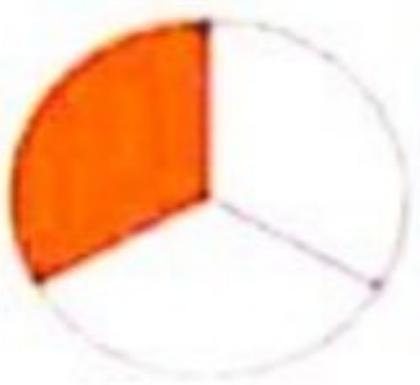




هر کسر را بر روی محور مربوط به خودش نشان دهید .



کسر هایی را که هر دایره نشان می دهد بنویس و به همان اندازه از مستطیل ها رنگ بزن .



—



—

یک زمین کشاورزی مستطیل شکل را به دو قسمت مساوی تقسیم کردیم . در نیمی از آن



سیب زمینی کاشتیم و نیم دیگر را به ۴ قسمت مساوی تقسیم کرده و دو قسمت آن را ریحان کاشتیم . با کمک شکل به سوالات زیر پاسخ دهید .

..... قسمت از ..... قسمت مساوی زمین پیاز کاشتیم .

..... قسمت از ..... قسمت مساوی ریحان کاشتیم .

در یک ظرف میوه ، ۱۲ عدد میوه وجود دارد . ۶ تای آن سیب ، ۲ تای آن نارنگی و بقیه ی



میوه ها موز هستند .

- چه کسری از میوه ها سیب هستند ؟

- چه کسری از میوه ها نارنگی هست ؟

- چه کسری از میوه ها موز است ؟

به نام خالق زیبایی ها

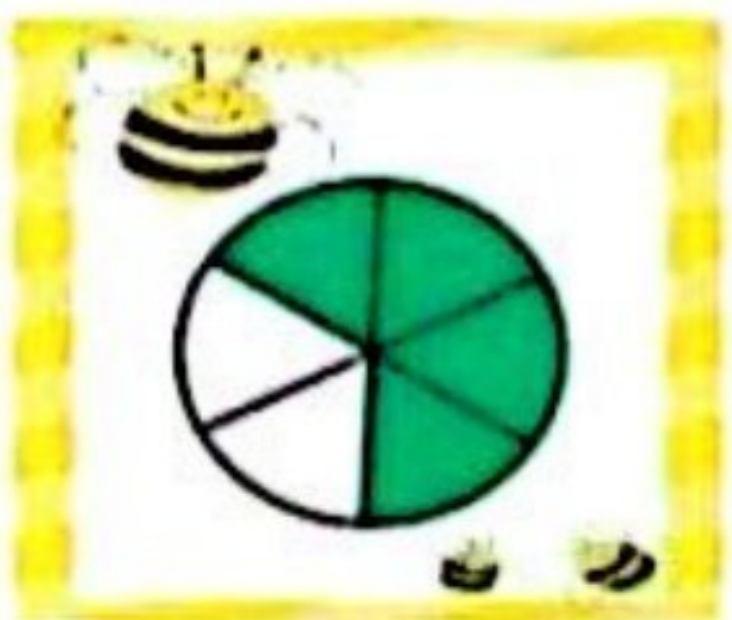

نام معلم : .....

تاریخ : ..... / ..... / .....

نام و نام خانوادگی : .....

کاربرد ریاضی - کسر

کسر مربوط به هر شکل را به شکل مناسب آن وصل کنید.



کسر:  $\frac{3}{6}$

کسر:  $\frac{4}{8}$

کسر:  $\frac{5}{8}$

کسر:  $\frac{4}{6}$

کسر:  $\frac{3}{4}$



مادر یاسمین بعد از پختن پیتزا آن را به ۸ قسمت مساوی تقسیم کرد . یاسمین ۳ قسمت و مادر و برادرش هر کدام ۲ قسمت از پیتزا را خوردند . با رسم شکل مناسب به سوالات زیر پاسخ دهید .

الف - چه کسری از پیتزا خورده شده است ؟

ب - چه کسری از پیتزا باقی مانده است ؟



حاصل جمع و تفریق زیر را با رسم شکل به دست آورید .

$$۱۳۶۰ + ۲۲۵۳ = \dots\dots\dots$$

$$۳۷۵۶ - ۱۱۲۳ = \dots\dots\dots$$

نگاش جلاویز است که موقیبت را می سازد ، همواره موقن باشید .